



1. kolo 2024./2025.

2. razred OŠ

ŠKOLA	
BROJ EKIPE	
POVJERENIK NATJECANJA	

R.B.	IME I PREZIME UČENIKA	RAZRED	IME I PREZIME MENTORA
1.			
2.			

ODGOVORI:

2. razred OŠ					
2.1.		2.4.		2.8.	
2.2.		2.5.		2.9.	
2.3.		2.6.		2.10.	
		2.7.		2.11.	
				2.12.	
				2.13.	
				2.14.	
				2.15.	



I ♥ MATematika

Autorice zadataka:

Maja Zelčić, prof. matematike
Tamara Nemeth, prof. matematike

Lektorica:

Ljiljana Centrih Lovrić, prof. hrvatskog jezika i književnosti

Recenzenti:

Petar Radanović, mag. educ. math.
Biljana Gaš, mag. prim. educ.
Milena Laco, dipl. uč.

TOČAN ODGOVOR : 10 bodova	ODGOVOR „E“ : 0 bodova	OSTALO : -2 boda
----------------------------------	-------------------------------	-------------------------

2.1. Koliko različitih slova abecede trebamo da bismo napisali riječ **matematika**?

MATematika

A. 4	B. 5	C. 6	D. 7	E. ne želimo odgovoriti na pitanje
----------------	----------------	----------------	----------------	---

2.2. Koji broj treba pisati umjesto upitnika?

$$5 + 4 - 3 + 2 - 1 = ?$$

A. 8	B. 7	C. 6	D. 5	E. ne želimo odgovoriti na pitanje
----------------	----------------	----------------	----------------	---

2.3. Ako je prva ekipa *Udruga lađara Zagreb* na Maratonu lađa u Metkoviću zauzela 1., a druga ekipa 10. mjesto, koliko je ekipa bilo između njih?

A. 9	B. 8	C. 7	D. nije moguće odrediti	E. ne želimo odgovoriti na pitanje
----------------	----------------	----------------	--------------------------------	---

TOČAN ODGOVOR: 20 bodova	ODGOVOR „E“ : 0 bodova	OSTALO : -4 boda
---------------------------------	-------------------------------	-------------------------

2.4. Jerko je crtao tragove stopa pri hodu. Koji je broj na stopi koju nije dobro nacrtao?

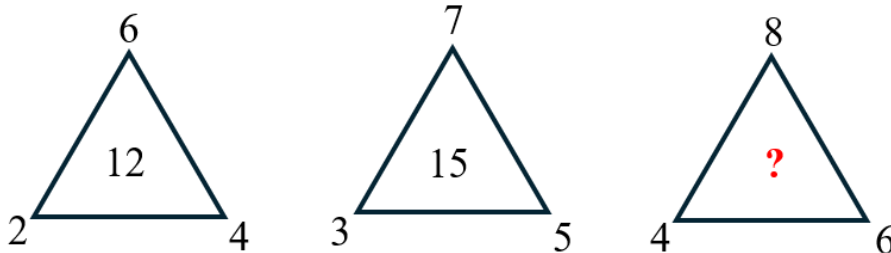


A. 8	B. 7	C. 10	D. 6	E. ne želimo odgovoriti na pitanje
----------------	----------------	-----------------	----------------	---

2.5. Jana je u školu donijela bombone. Maji je dala 3, Kristini 2 više nego Maji, a Juliji 1 više nego Kristini. Ako je Jani ostalo 5 bombona, koliko ih je donijela u školu?

A. 20	B. 19	C. 18	D. 17	E. ne želimo odgovoriti na pitanje
-----------------	-----------------	-----------------	-----------------	---

2.6. Koji broj treba pisati umjesto upitnika?



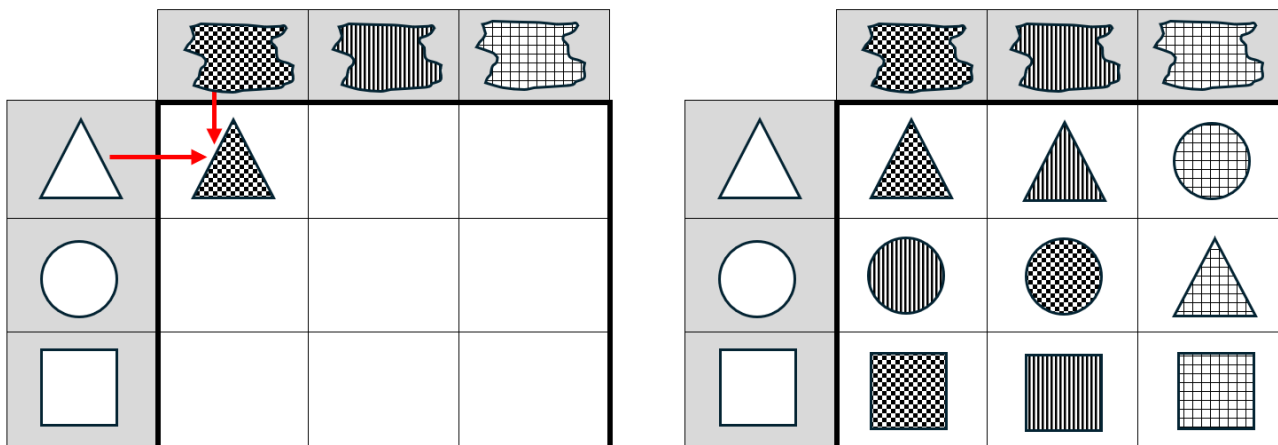
A.	B.	C.	D.	E.
16	17	18	19	ne želimo odgovoriti na pitanje

2.7. Ivan je u srijedu riješio 3 zadatka. Svaki idući dan riješio je 2 zadatka više nego prethodnog dana. Koliko je zadataka riješio iduće srijede?

A.	B.	C.	D.	E.
15	13	19	17	ne želimo odgovoriti na pitanje

TOČAN ODGOVOR: 30 bodova **ODGOVOR „E“ : 0 bodova** **OSTALO : -6 bodova**

2.8. U redcima tablice dani su geometrijski likovi (trokut, krug i kvadrat), a u stupcima različiti uzorci (šahovnica, pruge, kvadratići). Gabi je željela popuniti tablicu tako da u svako polje stavi geometrijski lik odgovarajućeg uzorka. Primjerice, u prvo polje stavlja trokut sa šahovnicom. Kada je popunila tablicu vidjela je da je neke likove pomiješala. Koliko se likova u tablici nalazi na krivom mjestu?



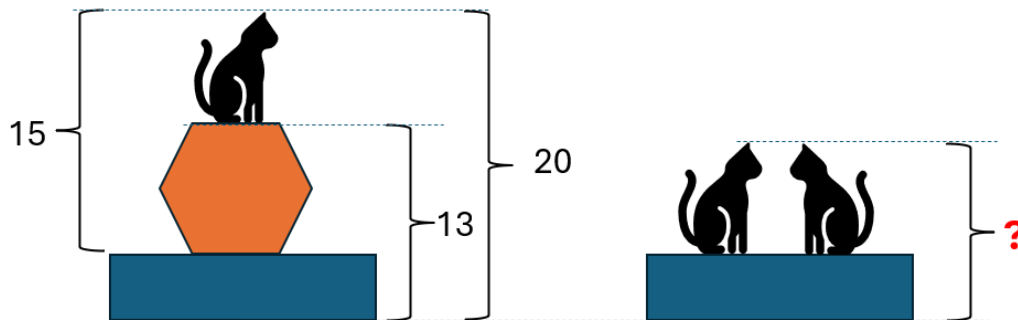
A.	B.	C.	D.	E.
2	3	4	5	ne želimo odgovoriti na pitanje

2.9. Koliki je zbroj znamenaka koje nedostaju u danoj jednakosti?

$$\square 2 + 7 = 1 \square$$

A.	B.	C.	D.	E.
9	10	11	20	ne želimo odgovoriti na pitanje

2.10. Brojevi na slici prikazuju visine. Koji broj treba pisati na mjestu upitnika?

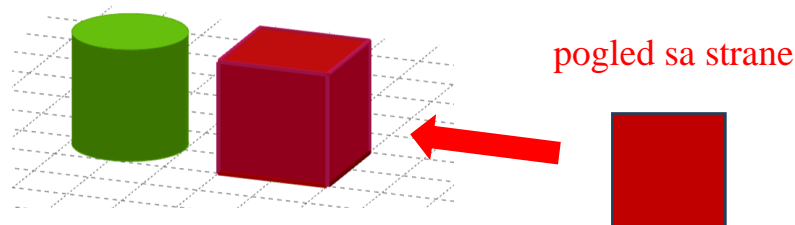


A. 12	B. 13	C. 19	D. 11	E. ne želimo odgovoriti na pitanje
-----------------	-----------------	-----------------	-----------------	---

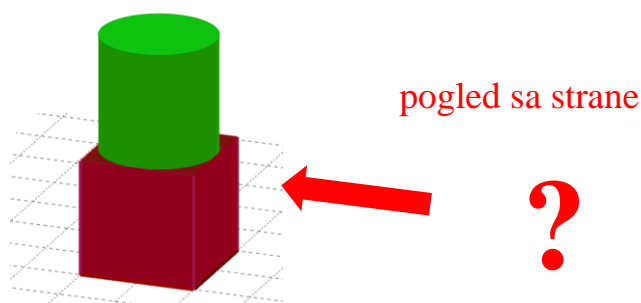
2.11. Mama je Mirjani dala novčanicu od 10 € da kupi bilježnicu i olovku. Nakon kupnje prodavačica je Mirjani vratila samo dvije kovanice u eurima različitih vrijednosti. Koliko eura nedostaje Mirjani da kupi još jednu takvu bilježnicu i olovku?

A. 4 €	B. 8 €	C. 6 €	D. nije moguće odrediti	E. ne želimo odgovoriti na pitanje
------------------	------------------	------------------	-----------------------------------	---

2.12. Ivo je stavio na stol kocku i valjak iste visine i iste širine. Kada je pogledao sa strane, vidio je kvadrat.



Što će Ivo vidjeti kada stavi valjak na kocku?



A. 	B. 	C. 	D. 	E. ne želimo odgovoriti na pitanje
---------------	---------------	---------------	---------------	---

