

ligica

1. kolo 2024./2025.

1. razred OŠ

ŠKOLA	
BROJ EKIPE	
POVJERENIK NATJECANJA	

R.B.	IME I PREZIME UČENIKA	RAZRED	IME I PREZIME MENTORA
1.			
2.			

ODGOVORI:

1. razred OŠ					
1.1.		1.4.		1.8.	
1.2.		1.5.		1.9.	
1.3.		1.6.		1.10.	
		1.7.		1.11.	
				1.12.	
				1.13.	
				1.14.	
				1.15.	



I ♥ MATEmatika

Autorice zadataka:

Maja Zelčić, prof. matematike
Tamara Nemeth, prof. matematike

Lektorica:

Ljiljana Centrih Lovrić, prof. hrvatskog jezika i književnosti

Recenzenti:

Petar Radanović, mag. educ. math.
Biljana Gaš, mag. prim. educ.
Milena Laco, dipl. uč.

TAČAN ODGOVOR : 10 bodova

ODGOVOR „E“ : 0 bodova

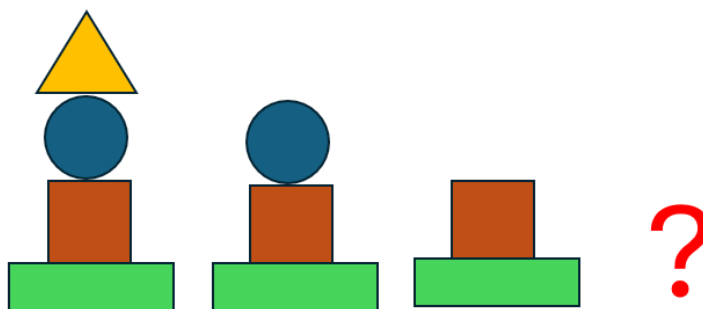
OSTALO : -2 boda





1.1. KOLIKO SLOVA IMA MAT LIGICA?

♥ MAT LIGICA ♥


A.	8	B.	9	C.	7	D.	10	E.	NE ŽELIMO ODGOVORITI NA PITANJE
----	---	----	---	----	---	----	----	----	---------------------------------

1.2. ŠTO SE TREBA NALAZITI NA MJESTU UPITNIKA?



A.		B.		C.		D.		E.	NE ŽELIMO ODGOVORITI NA PITANJE
----	--	----	--	----	--	----	---	----	---------------------------------

1.3. U KOJOJ JE ČAŠI NAJVIŠE SOKA?



A.	LIJEVOJ	B.	SREDNJOJ	C.	DESNOJ	D.	U SVIMA JE JEDNAKO	E.	NE ŽELIMO ODGOVORITI NA PITANJE
----	---------	----	----------	----	--------	----	--------------------	----	---------------------------------

TAČAN ODGOVOR: 20 bodova

ODGOVOR „E“ : 0 bodova

OSTALO : -4 boda

1.4. MAMA JE U SALATU STAVILA JEDAN PARADAJZ, A DVA JE UPOTRIJEBILA ZA KUHANJE UMAKA. KOLIKO JE PARADAJZA OSTALO U KORPI?




A.	2	B.	4	C.	1	D.	3	E.	NE ŽELIMO ODGOVORITI NA PITANJE
----	---	----	---	----	---	----	---	----	---------------------------------

1.5. MIRO IZREZUJE NACRTANI LIK PO CRTAMA. KOJI OD PONUĐENIH LIKOVA NE MOŽE DOBITI?




<p>A.</p>	<p>B.</p>	<p>C.</p>	<p>D.</p>	<p>E. NE ŽELIMO ODGOVORITI NA PITANJE</p>
------------------	------------------	------------------	------------------	--

1.6. IVANU SU KARTICE PALE NA POD. NEKE SU KARTICE OSTALE NEOKRENUTE. NA KOLIKO OKRENUTIH KARTICA PIŠU BROJEVI?



<p>A.</p> <p>3</p>	<p>B.</p> <p>4</p>	<p>C.</p> <p>5</p>	<p>D.</p> <p>6</p>	<p>E. NE ŽELIMO ODGOVORITI NA PITANJE</p>
---------------------------	---------------------------	---------------------------	---------------------------	--

1.7. DO KOJEG LISTA ĆE DOĆI GLISTA?



<p>A.</p>	<p>B.</p>	<p>C.</p>	<p>D.</p>	<p>E. NE ŽELIMO ODGOVORITI NA PITANJE</p>
------------------	------------------	------------------	------------------	--

TAČAN ODGOVOR: 30 bodova

ODGOVOR „E“ : 0 bodova

OSTALO : -6 bodova

1.8. INA JE NA POLICU STAVILA MEDU, ZEKU I SLONIĆA. KOLIKO POSTOJI RAZLIČITIH REDOSLIJEDA SLAGANJA TE TRI IGRAČKE?



A.	B.	C.	D.	E.
6	5	4	3	NE ŽELIMO ODGOVORITI NA PITANJE

1.9. TEA JE VIŠA OD ANE, A ANA JE NIŽA OD IVE. KO JE NAJNIŽI?

A.	B.	C.	D.	E.
TEA	ANA	IVA	NE MOŽEMO ZNATI	NE ŽELIMO ODGOVORITI NA PITANJE

1.10. KOLIKO JE SVESKI I KNJIGA NA SLICI?



A.	B.	C.	D.	E.
8	9	7	10	NE ŽELIMO ODGOVORITI NA PITANJE

1.11. MAMA JE SVAKOM DJETETU DALA JEDNAK BROJ KAJSIJA PRIJE ODLASKA U ŠKOLU. MIA JE ODMAH POJELA JEDNU, A ENA DVIJE. NJIHOV BRAT LEO ODLUČIO JE SVE TRI SVOJE KAJSIJE PONIJETI U ŠKOLU. KOLIKO SU KAJSIJA PONIJELE SESTRE MIA I ENA ZAJEDNO?

A.	B.	C.	D.	E.
4	5	6	3	NE ŽELIMO ODGOVORITI NA PITANJE

1.12. U VREĆI SE NALAZE KUGLICE SA SLIKE. JURE NE GLEDAJUĆI IZVLAČI JEDNU PO JEDNU KUGLICU. KOLIKO NAJMANJE KUGLICA TREBA IZVUĆI DA BI SIGURNO IZVUKAO KUGLICU S BROJEM MANJIM OD 5?



A.	B.	C.	D.	E.
5	4	2	1	NE ŽELIMO ODGOVORITI NA PITANJE

1.13. IVANA IMA 8 KOVANICA U EURAMA KOJE ZAJEDNO VRIJEDE 10 EURA. KOLIKO IMA KOVANICA OD JEDNOG EURA?



A.	B.	C.	D.	E.
6	8	7	5	NE ŽELIMO ODGOVORITI NA PITANJE

1.14. DJECA TREBAJU DONIJETI 5 JEDNAKIH KUTIJA IZ PODRUMA. NA KOLIKO NAČINA DVOJE DJECE MOŽE PODIJELITI KUTIJE TAKO DA SVAKO DONESE BAR JEDNU?

A.	B.	C.	D.	E.
3	4	6	5	NE ŽELIMO ODGOVORITI NA PITANJE

1.15. VAGA JE U RAVNOTEŽI. ŠTO ĆE SE DOGODITI S VAGOM AKO S OBJE STRANE SKINEMO PO JEDNU JABUKU?



A.	B.	C.	D.	E.
PRETEGNET ĆE LJEVA STRANA	OSTAT ĆE U RAVNOTEŽI	PRETEGNET ĆE DESNA STRANA	NIJE MOGUĆE ODREDITI	NE ŽELIMO ODGOVORITI NA PITANJE