

ligica

1° girone 2024/2025

1ª classe SE

SCUOLA	
NUMERO DELLA SQUADRA	
COMMISSARIO DELLA COMPETIZIONE	

N.ord.	NOME E COGNOME DELL'ALLIEVO	CLASSE	NOME E COGNOME DEL MENTORE
1.			
2.			

RISPOSTE:

1ª classe SE					
1.1.		1.4.		1.8.	
1.2.		1.5.		1.9.	
1.3.		1.6.		1.10.	
		1.7.		1.11.	
				1.12.	
				1.13.	
				1.14.	
				1.15.	



I ♥ MATEmatika

Autrici degli esercizi:

Maja Zelčić, Prof. di matematica
Tamara Nemeth, Prof. di matematica

Revisione a cura di:

Ljiljana Centrih Lovrić, Prof. di lingua e letteratura croata

Recensione a cura di:

Petar Radanović, mag. educ. math.
Biljana Gaš, mag. prim. educ.
Milena Laco, insegn. diplomata.

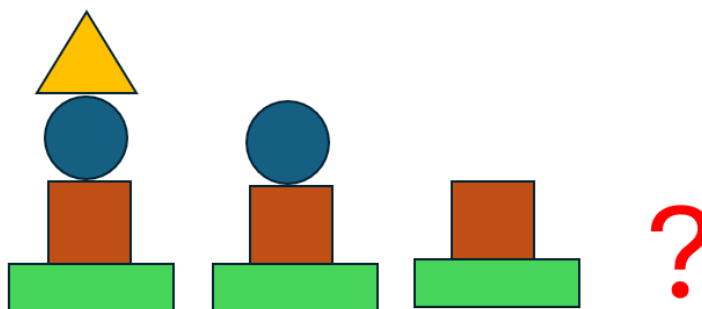
RISPOSTA ESATTA : 10 punti	RISPOSTA „E“ : 0 punti	ALTRO : -2 punti
-----------------------------------	-------------------------------	-------------------------





1.1. QUANTE LETTERE CI SONO IN **MAT LIGICA**?

♥ **MAT LIGICA** ♥


A. 8	B. 9	C. 7	D. 10	E. NON VOGLIAMO RISPONDERE
----------------	----------------	----------------	-----------------	-----------------------------------

1.2. CHE COSA DOVREBBE STARE AL POSTO DEL PUNTO INTERROGATIVO?



A. 	B. 	C. 	D. 	E. NON VOGLIAMO RISPONDERE
---	---	---	--	-----------------------------------

1.3. QUALE BICCHIERE CONTIENE PIÙ SUCCO?



A. QUELLO A SINISTRA	B. QUELLO IN METÀ	C. QUELLO A DESTRA	D. CONTENGONO TUTTI LA STESSA QUANTITÀ	E. NON VOGLIAMO RISPONDERE
--------------------------------	-----------------------------	------------------------------	--	-----------------------------------

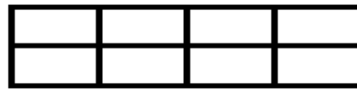
RISPOSTA ESATTA: 20 PUNTI	RISPOSTA „E“ : 0 PUNTI	ALTRO : -4 PUNTI
----------------------------------	-------------------------------	-------------------------

1.4. LA MAMMA HA MESSO UN POMODORO NELL'INSALATA E NE HA USATI DUE PER CUCINARE IL SUGO. QUANTI POMODORI SONO RIMASTI NEL CESTO?




A. 2	B. 4	C. 1	D. 3	E. NON VOGLIAMO RISPONDERE
----------------	----------------	----------------	----------------	-----------------------------------

1.5. MIRO RITAGLIA LA FIGURA DISEGNATA SEGUENDO LE LINEE. QUALE DELLE FIGURE PROPOSTE NON PUÒ OTTENERE?




<p>A.</p>	<p>B.</p>	<p>C.</p>	<p>D.</p>	<p>E. NON VOGLIAMO RISPONDERE</p>
------------------	------------------	------------------	------------------	--

1.6. LE CARTE DI IVANO SONO CADUTE A TERRA. ALCUNE CARTE SONO RIMASTE RIVOLTE VERSO IL BASSO. SU QUANTE CARTE GIRATE SONO SCRITTI DEI NUMERI?



<p>A.</p> <p>3</p>	<p>B.</p> <p>4</p>	<p>C.</p> <p>5</p>	<p>D.</p> <p>6</p>	<p>E. NON VOGLIAMO RISPONDERE</p>
---------------------------	---------------------------	---------------------------	---------------------------	--

1.7. FINO A QUALE FOGLIA ARRIVERÀ IL BRUCO?



<p>A.</p>	<p>B.</p>	<p>C.</p>	<p>D.</p>	<p>E. NON VOGLIAMO RISPONDERE</p>
------------------	------------------	------------------	------------------	--

1.11. LA MAMMA HA DATO A OGNI BAMBINO LO STESSO NUMERO DI ALBICOCHE PRIMA DI ANDARE A SCUOLA. MIA HA MANGIATO SUBITO UNA, MENTRE ENA NE HA MANGIATE DUE. IL LORO FRATELLO LEO HA DECISO DI PORTARE TUTTE E TRE LE SUE ALBICOCHE A SCUOLA. QUANTE ALBICOCHE HANNO PORTATO INSIEME MIA ED ENA?

A.	B.	C.	D.	E. NON VOGLIAMO RISPONDERE
4	5	6	3	

1.12. NEL SACCHETTO CI SONO LE PALLINE MOSTRATE NELL'IMMAGINE. JURE ESTRAE UNA PALLINA ALLA VOLTA SENZA GUARDARE. QUAL È IL NUMERO MINIMO DI PALLINE CHE DEVE ESTRARRE PER ESSERE SICURO DI PRENDERNE UNA CON UN NUMERO PIÙ PICCOLO DI 5?



A.	B.	C.	D.	E. NON VOGLIAMO RISPONDERE
5	4	2	1	

1.13. IVANA HA 8 MONETE IN EURO, LE QUALI, TUTTE ASSIEME VALGONO 10 EURO. QUANTE MONETE DA 1 EURO POSSIEDE IVANA?



A.	B.	C.	D.	E. NON VOGLIAMO RISPONDERE
6	8	7	5	

1.14. I BAMBINI DEVONO PORTARE DALLA CANTINA 5 SCATOLE UGUALI. IN QUANTI MODI POSSONO SUDDIVIDERSI LE SCATOLE DUE BAMBINI IN MODO CHE CIASCUNO NE PORTI ALMENO UNA?

A.	B.	C.	D.	E. NON VOGLIAMO RISPONDERE
3	4	6	5	

1.15. LA BILANCIA È IN EQUILIBRIO. CHE COSA SUCCEDERÀ ALLA BILANCIA SE DA TUTTE E DUE LE PARTI TOGLIAMO UNA MELA?



A. LA PARTE SINISTRA SI INCLINERÀ VERSO IL BASSO	B. LA BILANCIA RIMARRÀ IN EQUILIBRIO	C. LA PARTE DESTRA SI INCLINERÀ VERSO IL BASSO	D. NON SI PUÒ DETERMINARE	E. NON VOGLIAMO RISPONDERE
--	--	--	-------------------------------------	-----------------------------------