

ligica

1. girone 2025./2026.

1. classe SE

CODICE SCUOLA			-				-			
---------------	--	--	---	--	--	--	---	--	--	--

CODICE COMMISSARIO			-			
-----------------------	--	--	---	--	--	--

NUMERO SQUADRA	
----------------	--

N.Ord	NOME E COGNOME DELL'ALLIEVO	CLASSE	NOME E COGNOME DEL MENTORE
1.			
2.			

RISPOSTE:

1. classe SE					
1.1.		1.4.		1.8.	
1.2.		1.5.		1.9.	
1.3.		1.6.		1.10.	
		1.7.		1.11.	
				1.12.	
				1.13.	
				1.14.	
				1.15.	



I ♥ MATEmatika

Autrice degli esercizi:
Maja Zelčić, prof. di matematica

Revisione a cura di:
Ljiljana Centrih Lovrić, prof. di lingua e letteratura croata

Recensione a cura di:
Petar Radanović, mag. educ. math.
Tamara Nemeth, prof. di matematica
Biljana Gaš, mag. prim. educ.

RISPOSTA ESATTA: 10 punti

RISPOSTA „E“ : 0 punti

ALTRO : -2 punti

1.1. QUALE NUMERO DEVO SCRIVERE AL POSTO DEL PUNTO INTERROGATIVO?



A. 8	B. 2	C. 9	D. 4	E. NON RISPONDIAMO ALLA DOMANDA
----------------	----------------	----------------	----------------	--

1.2. AL BOWLING GABRIJEL HA ABBATTUTO TUTTI I BIRILLI NELL'IMMAGINE, E ROKO LA METÀ DI QUESTI. QUANTI BIRILLI IN PIÙ HA ABBATTUTO GABRIJEL RISPETTO A ROKO?




A. 4	B. 3	C. 2	D. 1	E. NON RISPONDIAMO ALLA DOMANDA
----------------	----------------	----------------	----------------	--

1.3. QUANTE GHIANDE HA RACCOLTO LO SCOIATTOLO?




A. 6	B. 7	C. 8	D. 9	E. NON RISPONDIAMO ALLA DOMANDA
RISPOSTA ESATTA: 20 punti		RISPOSTA „E“ : 0 punti		ALTRO : -4 punti

1.4. QUALE SEGNO MANCA?



A. 	B. 	C. 	D. 	E. NON RISPONDIAMO ALLA DOMANDA
---	---	---	---	---------------------------------------

1.5. QUANTI CUBETTI UGUALI HA DOVUTO USARE MIRTA PER COSTRUIRE LA FIGURA NELL'IMMAGINE?



A. 6	B. 7	C. 8	D. 9	E. NON RISPONDIAMO ALLA DOMANDA
---------	---------	---------	---------	---------------------------------------

1.6. NELL'IMMAGINE CI SONO IVO, ANTE, LUCE, KATE E ZORA. LUCE E IVO SUONANO LA TROMBA, E ZORA CANTA. CHI È LA PRIMA PERSONA DA SINISTRA?



A. LUCE	B. KATE	C. ZORA	D. NON POSSIAMO DETERMINARLO	E. NON RISPONDIAMO ALLA DOMANDA
------------	------------	------------	---------------------------------	---------------------------------------

1.7. LA MAMMA HA DATO A IRIS 10 EURO. IRIS HA COMPRATO DUE CIOCCOLATE E UN LECCA-LECCA. UNA CIOCCOLATA COSTA 4 EURO E IL LECCA-LECCA 1 EURO. QUANTI EURO SONO RIMASTI A IRIS?

A. 1	B. 2	C. 3	D. 5	E. NON RISPONDIAMO ALLA DOMANDA
----------------	----------------	----------------	----------------	--

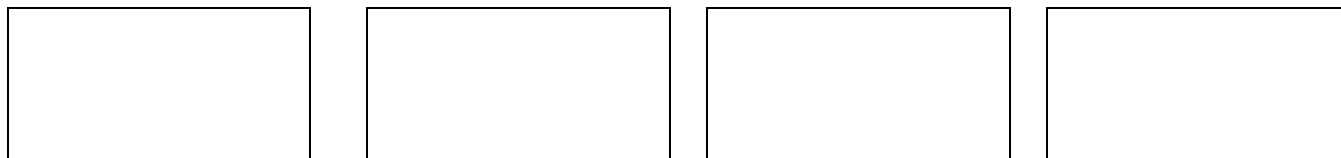
RISPOSTA ESATTA: 30 punti **RISPOSTA „E“ : 0 punti** **ALTRO : -6 punti**

1.8. IVICA HA RISOLTO 2 PROBLEMI IN MENO DI MIRO E 2 PROBLEMI IN PIÙ DI BORIS. SE TUTTI E TRE INSIEME HANNO RISOLTO 9 PROBLEMI, QUANTI PROBLEMI HA RISOLTO MIRO?

A. 4	B. 5	C. 6	D. 7	E. NON RISPONDIAMO ALLA DOMANDA
----------------	----------------	----------------	----------------	--

1.9. DISPONI I DISEGNI NEI RETTANGOLI IN MODO CHE SIA:

- LA PIGNA A SINISTRA DELLA LUMACA
 - IL FIORE ALL'ESTREMA DESTRA
 - IL RICCIO A DESTRA DELLA PIGNA.
- CHI CI SARÀ ALL'INIZIO?



A. RICCIO	B. LUMACA	C. FIORE	D. PIGNA	E. NON RISPONDIAMO ALLA DOMANDA
---------------------	---------------------	--------------------	--------------------	--

1.10. QUALE SIMBOLO CI SARA' AL DECIMO POSTO?




A. 	B. 	C. 	D. 	E. NON RISPONDIAMO ALLA DOMANDA
---------------	---------------	---------------	---------------	--

1.11. DOPO AVER MESSO 2 FIORI NEL PRIMO VASO, TARA VUOLE METTERE ALTRI 10 FIORI NEI 3 VASI IN MODO CHE OGNUNO ABBA UN NUMERO DIVERSO DI FIORI. QUAL È IL MINOR NUMERO DI FIORI CHE CI SARÀ IN UN VASO?



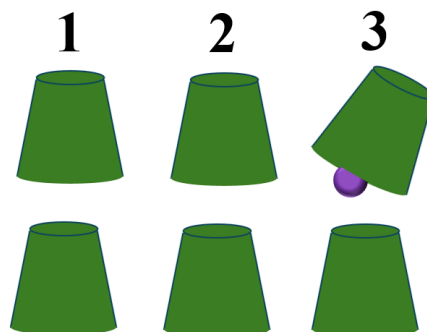
A. 1	B. 2	C. 3	D. 4	E. NON RISPONDIAMO ALLA DOMANDA
----------------	----------------	----------------	----------------	--

1.12. QUAL E' IL PEZZO MANCANTE?



A. 4	B. 3	C. 2	D. 1	E. NON RISPONDIAMO ALLA DOMANDA
----------------	----------------	----------------	----------------	--

1.13. IVAN HA NASCOSTO LA PALLINA SOTTO IL BICCHIERE NELLA POSIZIONE 3. DOPO DI CIÒ HA SCAMBIATO I BICCHIERI NELLE POSIZIONI 1 E 3, POI 2 E 3 E INFINE 1 E 2. IN QUALE POSIZIONE SI TROVA LA PALLINA DOPO TUTTI GLI SCAMBI?




A. 1	B. 2	C. 3	D. NON POSSIAMO DETERMINARLO	E. NON RISPONDIAMO ALLA DOMANDA
----------------	----------------	----------------	--	--

1.14. MIA E LA SUA SORELLA, PIÙ GIOVANE DI 2 ANNI, HANNO INSIEME 8 ANNI. QUANTI ANNI AVRÀ MIA TRA 2 ANNI?

A. 10	B. 6	C. 8	D. 7	E. NON RISPONDIAMO ALLA DOMANDA
-----------------	----------------	----------------	----------------	--

1.15. IN QUANTI MODI JURICA PUÒ RIEMPIRE LO SPAZIO VUOTO (NELL'IMMAGINE) CON I TRE CUBI (UNO PICCOLO VERDE, UNO PICCOLO GIALLO E UNO GRANDE ROSSO) CHE GLI SONO RIMASTI?



A. 2	B. 3	C. 4	D. PIU' DI 4	E. NON RISPONDIAMO ALLA DOMANDA
----------------	----------------	----------------	------------------------	--