

ligica

1. kolo 2025./2026.

ŠIFRA ŠKOLE			-				-			
-------------	--	--	---	--	--	--	---	--	--	--

ŠIFRA POVJERENIKA			-			
-------------------	--	--	---	--	--	--

BROJ EKIPE	
------------	--

R.B.	IME I PREZIME UČENIKA	RAZRED	IME I PREZIME MENTORA
1.			
2.			

ODGOVORI:

1. razred OŠ					
1.1.		1.4.		1.8.	
1.2.		1.5.		1.9.	
1.3.		1.6.		1.10.	
		1.7.		1.11.	
				1.12.	
				1.13.	
				1.14.	
				1.15.	



I ♥ MATematika

Autorica zadatka:

Maja Zelčić, prof. matematike

Lektorica:

Ljiljana Centrih Lovrić, prof. hrvatskog jezika i književnosti

Recenzenti:

Petar Radanović, mag. educ. math.

Tamara Nemeth, prof. matematike

Biljana Gaš, mag. prim. educ.

Milena Laco, dipl. uč.

1.1. KOJI BROJ TREBA PISATI NA MJESTU UPITNIKA?



A.	B.	C.	D.	E.
8	2	9	4	NE ŽELIMO ODGOVORITI NA PITANJE

1.2. NA KUGLANJU JE GABRIJEL SRUŠIO SVE ČUNJEVE NA SLICI, A ROKO POLA OD TOGA. KOLIKO JE ČUNJEVA GABRIJEL SRUŠIO VIŠE OD ROKA?



A.	B.	C.	D.	E.
4	3	2	1	NE ŽELIMO ODGOVORITI NA PITANJE

1.3. KOLIKO JE ŽIROVA SAKUPILA VJEVERICA?




A.	B.	C.	D.	E.
6	7	8	9	NE ŽELIMO ODGOVORITI NA PITANJE

TOČAN ODGOVOR: 20 bodova

ODGOVOR „E“ : 0 bodova


OSTALO : -4 boda

1.4. KOJI ZNAK NEDOSTAJE?



A.		B.		C.		D.		E.	NE ŽELIMO ODGOVORITI NA PITANJE
----	---	----	---	----	---	----	---	----	---------------------------------

1.5. KOLIKO JE JEDNAKIH KOCKICA TREBALO MIRTI DA SLOŽI TIJELO KAO NA SLICI?



A.	6	B.	7	C.	8	D.	9	E.	NE ŽELIMO ODGOVORITI NA PITANJE
----	---	----	---	----	---	----	---	----	---------------------------------

1.6. NA SLICI SU IVO, ANTE, LUCE, KATE I ZORA. LUCE I IVO SVIRAJU TRUBU, A ZORA PJEVA. TKO JE PRVI SLIJEVA?



A.	LUCE	B.	KATE	C.	ZORA	D.	NE MOŽEMO ODREDITI	E.	NE ŽELIMO ODGOVORITI NA PITANJE
----	------	----	------	----	------	----	--------------------	----	---------------------------------

1.7. MAMA JE DALA IRIS 10 EURA. IRIS JE KUPILA DVIJE ČOKOLADE I JEDNU LIZALICU. JEDNA ČOKOLADA KOŠTA 4 EURA, A LIZALICA 1 EURO. KOLIKO JE EURA IRIS PREOSTALO?

A.	1	B.	2	C.	3	D.	5	E.	NE ŽELIMO ODGOVORITI NA PITANJE
----	---	----	---	----	---	----	---	----	---------------------------------

TOČAN ODGOVOR: 30 bodova	ODGOVOR „E“ : 0 bodova	OSTALO : -6 bodova
---------------------------------	-------------------------------	---------------------------

1.8. IVICA JE RIJEŠIO 2 ZADATKA MANJE OD MIRE, A 2 ZADATKA VIŠE OD BORISA. AKO SU SVA TROJICA ZAJEDNO RIJEŠILA 9 ZADATAKA, KOLIKO JE ZADATAKA RIJEŠIO MIRO?

A. 4	B. 5	C. 6	D. 7	E. NE ŽELIMO ODGOVORITI NA PITANJE
----------------	----------------	----------------	----------------	---

1.9. RASPOREDITE CRTEŽE U PRAVOKUTNIKE TAKO DA BUDE:

- ČEŠER LIJEVO OD PUŽA
- CVIJET NA KRAJU DESNO
- JEŽ DESNO OD ČEŠERA



TKO ĆE BITI NA POČETKU?

--	--	--	--

A. JEŽ	B. PUŽ	C. CVIJET	D. ČEŠER	E. NE ŽELIMO ODGOVORITI NA PITANJE
------------------	------------------	---------------------	--------------------	---

1.10. ŠTO TREBA PISATI NA DESETOM MJESTU?




A. 	B. 	C. 	D. 	E. NE ŽELIMO ODGOVORITI NA PITANJE
---------------	---------------	---------------	---------------	---

1.11. NAKON ŠTO JE 2 CVIJETA STAVILA U PRVU VAZU, TARA ŽELI JOŠ 10 CVJETOVA STAVITI U 3 VAZE TAKO DA U SVAKOJ BUDE RAZLIČIT BROJ CVJETOVA. KOLIKO ĆE NAJMANJE CVJETOVA BITI U NEKOJ VAZI?



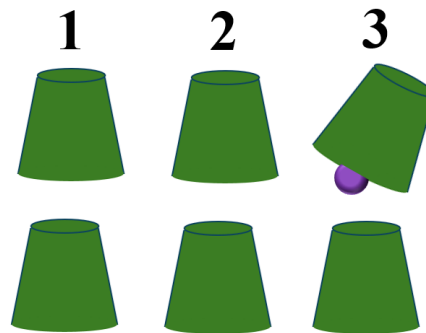
A. 1	B. 2	C. 3	D. 4	E. NE ŽELIMO ODGOVORITI NA PITANJE
----------------	----------------	----------------	----------------	---

1.12. KOJI DIO NEDOSTAJE?



A. 4	B. 3	C. 2	D. 1	E. NE ŽELIMO ODGOVORITI NA PITANJE
----------------	----------------	----------------	----------------	---

1.13. IVAN JE SKRIO LOPTICU ISPOD ČAŠE NA MJESTU 3. NAKON TOGA ZAMIJENIO JE ČAŠE NA MJESTIMA 1 I 3, POTOM 2 I 3 TE NA KRAJU 1 I 2. NA KOJEM SE MJESTU NALAZI LOPTICA NAKON SVIH ZAMJENA?




A. 1	B. 2	C. 3	D. NIJE MOGUĆE ODREDITI	E. NE ŽELIMO ODGOVORITI NA PITANJE
----------------	----------------	----------------	-----------------------------------	---

1.14. MIA I NJEZINA 2 GODINE MLAĐA SESTRA IMAJU ZAJEDNO 8 GODINA. KOLIKO ĆE GODINA IMATI MIA ZA 2 GODINE?

A. 10	B. 6	C. 8	D. 7	E. NE ŽELIMO ODGOVORITI NA PITANJE
-----------------	----------------	----------------	----------------	---

1.15. NA KOLIKO NAČINA JURICA MOŽE POPUNITI PRAZninu (NA SLICI) TRIMA KOCKAMA ZA SLAGANJE (MALA ZELENA, MALA ŽUTA I VELIKA CRVENA) KOJE SU MU PREOSTALE?



A. 2	B. 3	C. 4	D. VIŠE OD 4	E. NE ŽELIMO ODGOVORITI NA PITANJE
----------------	----------------	----------------	------------------------	---