

# ligica

## 2. girone 2025./2026.

CODICE SCUOLA			-				-			
---------------	--	--	---	--	--	--	---	--	--	--

CODICE COMMISSARIO			-				
-----------------------	--	--	---	--	--	--	--

NUMERO SQUADRA	
----------------	--

N.Ord.	NOME E COGNOME DELL'ALLIEVO	CLASSE	NOME E COGNOME DEL MENTORE
1.			
2.			

### RISPOSTE:

1. classe SE					
1.1.		1.4.		1.8.	
1.2.		1.5.		1.9.	
1.3.		1.6.		1.10.	
		1.7.		1.11.	
				1.12.	
				1.13.	
				1.14.	
				1.15.	



## I ♥ MATEmatika

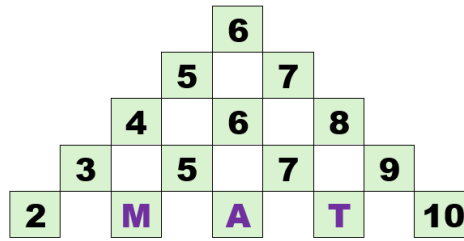
Autrice degli esercizi:  
Maja Zelčić, prof. di matematica

Revisione a cura di:  
Ljiljana Centrih Lovrić, prof. di lingua e letteratura croata

Recensione a cura di:  
Petar Radanović, mag. educ. math.  
Tamara Nemeth, prof. di matematica  
Biljana Gaš, mag. prim. educ.  
Milena Laco, dipl. uč.

<b>RISPOSTA ESATTA: 10 punti</b>	<b>RISPOSTA „E“ : 0 punti</b>	<b>ALTRO : -2 punti</b>
----------------------------------	-------------------------------	-------------------------

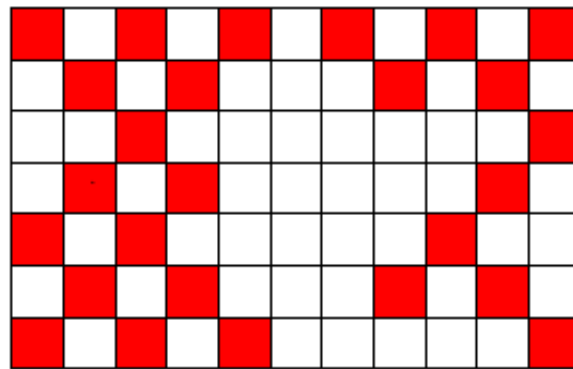
1.1. QUALE NUMERO DEVO SCRIVERE AL POSTO DEL PUNTO INTERROGATIVO?



**M + A + T = ?**


<b>A.</b> 18	<b>B.</b> 20	<b>C.</b> 19	<b>D.</b> 14	<b>E.</b> NON RISPONDIAMO ALLA DOMANDA
-----------------	-----------------	-----------------	-----------------	---

1.2. GLI ALUNNI COLORANO IL DISEGNO IN ROSSO E BIANCO COME NELLA RIGA SUPERIORE. QUANTE ALTRE CASELLE DEVONO ANCORA COLORARE DI ROSSO?



<b>A.</b> 14	<b>B.</b> 13	<b>C.</b> 12	<b>D.</b> 11	<b>E.</b> NON RISPONDIAMO ALLA DOMANDA
-----------------	-----------------	-----------------	-----------------	---

1.3. QUAL È IL NUMERO MINIMO DI LINEE CHE INES HA DOVUTO TRACCIARE PER REALIZZARE IL DISEGNO COME NELL'IMMAGINE?



<b>A.</b> 9	<b>B.</b> 12	<b>C.</b> 11	<b>D.</b> 10	<b>E.</b> NON RISPONDIAMO ALLA DOMANDA
----------------	-----------------	-----------------	-----------------	---

<b>RISPOSTA ESATTA: 20 punti</b>	<b>RISPOSTA „E“ : 0 punti</b>	<b>ALTRO : -4 punti</b>
----------------------------------	-------------------------------	-------------------------

1.4. TUTTI GLI OGGETTI SULLO STESSO SCAFFALE SONO DELLO STESSO COLORE: BLU, ROSSO O VERDE. RIEMPI I CAMPI VUOTI CON I COLORI. COSA DEVI SCRIVERE?

GOMMA DA CANCELLARE PIU' CORTA

VERDE
-------

LIBRO PIU' SPESSO


--

CONTENITORE DI MATITE PIU' ALTO

--

ASTUCCIO PIU' LUNGO

--



<b>A.</b> BLU BLU VERDE	<b>B.</b> BLU VERDE VERDE	<b>C.</b> BLU BLU ROSSO	<b>D.</b> BLU VERDE ROSSO	<b>E.</b> NON RISPONDIAMO ALLA DOMANDA
-------------------------------	---------------------------------	-------------------------------	---------------------------------	---

1.5. QUANTE COCCINELLE DIVERSE CI SONO NELL'IMMAGINE?



<b>A.</b> 7	<b>B.</b> 6	<b>C.</b> 5	<b>D.</b> 4	<b>E.</b> NON RISPONDIAMO ALLA DOMANDA
-------------	-------------	-------------	-------------	---

1.6. MENTRE CORREVAANO INTORNO AL CAMPO DA GIOCO, TRA VJEKO E ZORAN C'ERANO OTTO ALUNNI. POCO PRIMA DEL TRAGUARDO, ZORAN HA ACCELERATO E NE HA SUPERATI DUE. SE VJEKO È ARRIVATO TERZO AL TRAGUARDO, IN CHE POSIZIONE È ARRIVATO ZORAN?

<b>A.</b> 10.	<b>B.</b> 9.	<b>C.</b> 8.	<b>D.</b> 11.	<b>E.</b> NON RISPONDIAMO ALLA DOMANDA
---------------	--------------	--------------	---------------	---

1.7. QUANDO VANNO DAI NONNI IN CAMPAGNA, LA FAMIGLIA DI BRUNA IMPIEGA MEZZ'ORA PER METÀ DEL PERCORSO. QUANTO TEMPO IMPIEGANO IN TOTALE PER ANDARE E RITORNARE DALLA CAMPAGNA?

<b>A.</b> 1 ORA	<b>B.</b> 2 ORE	<b>C.</b> 1 ORA E MEZZA	<b>D.</b> 2 ORE E MEZZA	<b>E.</b> NON RISPONDIAMO ALLA DOMANDA
--------------------	--------------------	----------------------------	----------------------------	--

<b>RISPOSTA ESATTA: 30 punti</b>	<b>RISPOSTA „E“ : 0 punti</b>	<b>ALTRO : -6 punti</b>
----------------------------------	-------------------------------	-------------------------

1.8. IN UN CESTO CI SONO QUATTRO PALLINE CON I NUMERI: 1, 2, 3 E 4. OGNI PALLINA È DI UN COLORE DIVERSO: ROSSO, BLU, VERDE E GIALLO.

- LA PALLINA ROSSA HA UN NUMERO MAGGIORE DI QUELLA BLU.
- LA PALLINA VERDE HA UN NUMERO MINORE DI QUELLA BLU.
- LA PALLINA GIALLA HA IL NUMERO 4
- LA PALLINA VERDE NON HA IL NUMERO 2

QUAL È IL NUMERO SULLA PALLINA ROSSA?

<b>A.</b> 2	<b>B.</b> 3	<b>C.</b> 4	<b>D.</b> NON SI PUO' DETERMINARE	<b>E.</b> NON RISPONDIAMO ALLA DOMANDA
----------------	----------------	----------------	--------------------------------------	--

1.9. ŠIMUN HA PORTATO A SCUOLA LA METÀ DELLE CAMELLE DI UN SACCHETTO. DOPO CHE TOMA NE HA MANGIATE 3, E JURAJ E IVAN NE HANNO MANGIATE 2 CIASCUNO, A ŠIMUN SONO RIMASTE 3 CAMELLE. QUANTE CAMELLE C'ERANO ALL'INIZIO NEL SACCHETTO?

<b>A.</b> 10	<b>B.</b> 16	<b>C.</b> 18	<b>D.</b> 20	<b>E.</b> NON RISPONDIAMO ALLA DOMANDA
-----------------	-----------------	-----------------	-----------------	--

1.10. IRIS VUOLE METTERE DELLE TESSERE NUMERATE IN DUE SCATOLE, 3 TESSERE IN CIASCUNA SCATOLA, IN MODO CHE LA SOMMA IN ENTRAMBE LE SCATOLE SIA UGUALE. QUALE NUMERO DEVE ESSERE NELLA STESSA SCATOLA CON IL NUMERO 5?



<b>A.</b> 8	<b>B.</b> 4	<b>C.</b> 3	<b>D.</b> 2	<b>E.</b> NON RISPONDIAMO ALLA DOMANDA
----------------	----------------	----------------	----------------	--

1.11. GLI ALUNNI VOTANO LO SPORT PREFERITO.

IL SIMBOLO ▲ VALE 2 VOTI.

IL SIMBOLO ● VALE 3 VOTI.

QUANTI VOTI HA OTTENUTO LO SPORT CHE HA VINTO?

CALCIO	▲ ● ▲ ● ● ● ▲
PALLAMANO	▲ ▲ ● ▲ ▲ ● ● ▲
TENNIS	▲ ▲ ● ▲ ▲ ▲ ▲

<b>A.</b> 19	<b>B.</b> 20	<b>C.</b> 18	<b>D.</b> 17	<b>E.</b> NON RISPONDIAMO ALLA DOMANDA
-----------------	-----------------	-----------------	-----------------	--


1.12. LA MAMMA VUOLE DIVIDERE 16 FRAGOLE TRA 3 BAMBINI. QUAL È IL NUMERO MINIMO DI FRAGOLE CHE LE MANCANO AFFINCHÉ OGNI BAMBINO RICEVA LO STESSO NUMERO DI FRAGOLE?

<b>A.</b> 0	<b>B.</b> 1	<b>C.</b> 2	<b>D.</b> 3	<b>E.</b> NON RISPONDIAMO ALLA DOMANDA
----------------	----------------	----------------	----------------	--

1.13. IVICA HA RISOLTO 3 PROBLEMI IN MENO DI MIRO E 2 PROBLEMI IN PIÙ DI BORIS. SE TUTTI E TRE INSIEME HANNO RISOLTO 10 PROBLEMI, QUANTI PROBLEMI HA RISOLTO BORIS?

<b>A.</b> 1	<b>B.</b> 2	<b>C.</b> 3	<b>D.</b> 4	<b>E.</b> NON RISPONDIAMO ALLA DOMANDA
----------------	----------------	----------------	----------------	--

1.14. QUANTO COSTANO DUE LECCA-LECCA?



<b>A.</b> 5 €	<b>B.</b> 8 €	<b>C.</b> 4 €	<b>D.</b> 10 €	<b>E.</b> NON RISPONDIAMO ALLA DOMANDA
------------------	------------------	------------------	-------------------	--

1.15. TIA NON RIESCE A DECIDERE QUALE VESTITO INDOSSARE: VERDE, ROSA O GIALLO. INOLTRE, DEVE SCEGLIERE LE SCARPE DA GINNASTICA: ROSA O VERDI. QUANTE COMBINAZIONI DIVERSE PUÒ COMPORRE TIA?



<b>A.</b> 5	<b>B.</b> 7	<b>C.</b> 4	<b>D.</b> 6	<b>E.</b> NON RISPONDIAMO ALLA DOMANDA
----------------	----------------	----------------	----------------	--