

# ligica

## 2. kolo 2025./2026.

ŠIFRA ŠKOLE			-				-			
-------------	--	--	---	--	--	--	---	--	--	--

ŠIFRA POVJERENIKA			-			
-------------------	--	--	---	--	--	--

BROJ EKIPE	
------------	--

R.B.	IME I PREZIME UČENIKA	RAZRED	IME I PREZIME MENTORA
1.			
2.			

### ODGOVORI:

1. razred OŠ					
1.1.		1.4.		1.8.	
1.2.		1.5.		1.9.	
1.3.		1.6.		1.10.	
		1.7.		1.11.	
				1.12.	
				1.13.	
				1.14.	
				1.15.	



## I ♥ MATEMATIKA

### Autorica zadatka:

Maja Zelčić, prof. matematike

### Lektorica:

Ljiljana Centrih Lovrić, prof. hrvatskog jezika i književnosti

### Recenzenti:

Petar Radanović, mag. educ. math.

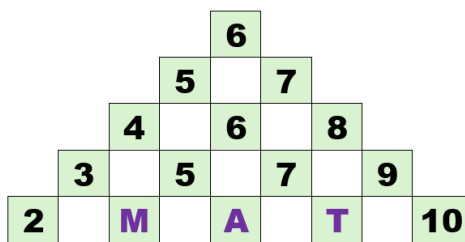
Tamara Nemeth, prof. matematike

Biljana Gaš, mag. prim. educ.

Milena Laco, dipl. uč.

<b>TOČAN ODGOVOR : 10 bodova</b>	<b>ODGOVOR „E“ : 0 bodova</b>	<b>OSTALO : -2 boda</b>
----------------------------------	-------------------------------	-------------------------

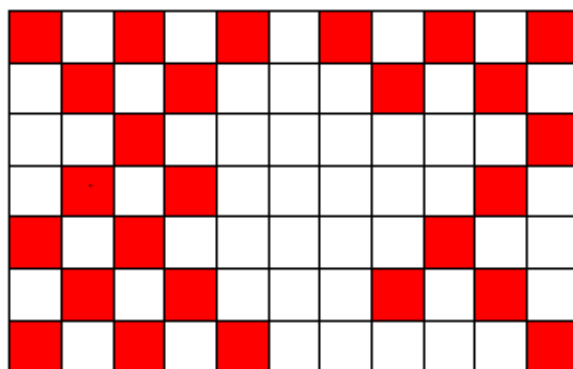
1.1. KOJI BROJ TREBA PISATI NA MJESTU UPITNIKA?



**M + A + T = ?**


<b>A.</b> 18	<b>B.</b> 20	<b>C.</b> 19	<b>D.</b> 14	<b>E.</b> NE ŽELIMO ODGOVORITI NA PITANJE
-----------------	-----------------	-----------------	-----------------	---

1.2. UČENICI BOJE CRTEŽ CRVENO-BIJELO KAO U GORNJEM RETKU. KOLIKO JOŠ POLJA TREBAJU OBOJITI U CRVENO?



<b>A.</b> 14	<b>B.</b> 13	<b>C.</b> 12	<b>D.</b> 11	<b>E.</b> NE ŽELIMO ODGOVORITI NA PITANJE
-----------------	-----------------	-----------------	-----------------	---

1.3. KOLIKO JE NAJMANJE LINIJA TREBALA POVUĆI INES DA BI NACRTALA CRTEŽ KAO NA SLICI?



<b>A.</b> 9	<b>B.</b> 12	<b>C.</b> 11	<b>D.</b> 10	<b>E.</b> NE ŽELIMO ODGOVORITI NA PITANJE
----------------	-----------------	-----------------	-----------------	---

TOČAN ODGOVOR: 20 bodova

ODGOVOR „E“ : 0 bodova

OSTALO : -4 boda

- 1.4. SVI PREDMETI NA ISTOJ POLICI JEDNAKE SU BOJE: PLAVE, CRVENE ILI ZELENE.  
POPUNITE PRAZNA POLJA BOJAMA.  
ŠTO TREBATE NAPISATI?

NAJKRAĆA GUMICA

ZELENA

NAJDEBLJA KNJIGA

NAJVIŠA POSUDA ZA BOJICE

NAJDULJA PERNICA



A. PLAVA PLAVA ZELENA	B. PLAVA ZELENA ZELENA	C. PLAVA PLAVA CRVENA	D. PLAVA ZELENA CRVENA	E. NE ŽELIMO ODGOVORITI NA PITANJE
-----------------------------	------------------------------	-----------------------------	------------------------------	--

- 1.5. KOLIKO JE RAZLIČITIH BUBAMARA NA SLICI?



A. 7	B. 6	C. 5	D. 4	E. NE ŽELIMO ODGOVORITI NA PITANJE
------	------	------	------	--

- 1.6. DOK SU TRČALI KRUG OKO IGRALIŠTA, IZMEĐU VJEKE I ZORANA BILA SU OSMORICA UČENIKA.  
NEPOSREDNO PRIJE CILJA ZORAN JE UBRZAO I PRETEKAO DVOJICU. AKO JE VJEKO NA CILJ  
STIGAO TREĆI, KOJI JE BIO ZORAN?

A. 10.	B. 9.	C. 8.	D. 11.	E. NE ŽELIMO ODGOVORITI NA PITANJE
--------	-------	-------	--------	--

1.7. KADA IDU BAKI I DJEDU NA SELO, BRUNINOJ OBITELJI TREBA POLA SATA ZA POLA PUTA. KOLIKO IM TREBA VREMENA ZA ODLAZAK NA SELO I POVRATAK SA SELA?

<b>A.</b> 1 SAT	<b>B.</b> 2 SATA	<b>C.</b> 1 I POL SAT	<b>D.</b> 2 I POL SATA	<b>E.</b> NE ŽELIMO ODGOVORITI NA PITANJE
--------------------	---------------------	--------------------------	---------------------------	---

**TOČAN ODGOVOR: 30 bodova**      **ODGOVOR „E“ : 0 bodova**      **OSTALO : -6 bodova**

1.8. U KOŠARI SU ČETIRI LOPTE S BROJEVIMA: 1, 2, 3 I 4. SVAKA JE LOPTA U DRUGOJ BOJI: CRVENA, PLAVA, ZELENA I ŽUTA.

- CRVENA LOPTA IMA VEĆI BROJ OD PLAVE
- ZELENA LOPTA IMA MANJI BROJ OD PLAVE
- ŽUTA LOPTA IMA BROJ 4
- ZELENA LOPTA NEMA BROJ 2

KOJI JE BROJ NA CRVENOJ LOPTI?

<b>A.</b> 2	<b>B.</b> 3	<b>C.</b> 4	<b>D.</b> NIJE MOGUĆE ODREDITI	<b>E.</b> NE ŽELIMO ODGOVORITI NA PITANJE
----------------	----------------	----------------	--------------------------------------	---

1.9. ŠIMUN JE U ŠKOLU PONIO POLOVICU BOMBONA IZ VREĆICE. NAKON ŠTO JE TOMA POJEO 3, A JURAJ I IVAN PO 2 BOMBONA, ŠIMUNU SU OSTALA 3 BOMBONA. KOLIKO JE BOMBONA BILO NA POČETKU U VREĆICI?

<b>A.</b> 10	<b>B.</b> 16	<b>C.</b> 18	<b>D.</b> 20	<b>E.</b> NE ŽELIMO ODGOVORITI NA PITANJE
-----------------	-----------------	-----------------	-----------------	---

1.10. IRIS IMA KARTICE S BROJEVIMA. ŽELI STAVITI PO 3 KARTICE U DVIJE KUTIJE TAKO DA ZBROJ U OBJE KUTIJE BUDE JEDNAK. KOJI BROJ MORA BITI U ISTOJ KUTIJI S BROJEM 5?

2      3      4      5      6      8

<b>A.</b> 8	<b>B.</b> 4	<b>C.</b> 3	<b>D.</b> 2	<b>E.</b> NE ŽELIMO ODGOVORITI NA PITANJE
----------------	----------------	----------------	----------------	---

1.11. UČENICI SU BIRALI NAJDRAŽI SPORT.

ZNAK ▲ VRIJEDI 2 GLASA.

ZNAK ● VRIJEDI 3 GLASA.

KOLIKO JE GLASOVA DOBIO  
POBJEDNIK?

NOGOMET	▲ ● ▲ ● ● ● ▲
RUKOMET	▲ ▲ ● ▲ ▲ ● ● ▲
TENIS	▲ ▲ ● ▲ ▲ ▲ ▲

<b>A.</b> 19	<b>B.</b> 20	<b>C.</b> 18	<b>D.</b> 17	<b>E.</b> NE ŽELIMO ODGOVORITI NA PITANJE
-----------------	-----------------	-----------------	-----------------	---


1.12. MAMA ŽELI PODIJELITI 16 JAGODA NA TROJE DJECE. KOLIKO JOJ NAJMANJE JAGODA NEDOSTAJE DA SVAKO DIJETE DOBIJE JEDNAK BROJ JAGODA?

A.	B.	C.	D.	E.
0	1	2	3	NE ŽELIMO ODGOVORITI NA PITANJE

1.13. IVICA JE RIJEŠIO 3 ZADATKA MANJE OD MIRE, A 2 ZADATKA VIŠE OD BORISA. AKO SU SVA TROJICA ZAJEDNO RIJEŠILA 10 ZADATAKA, KOLIKO JE ZADATAKA RIJEŠIO BORIS?

A.	B.	C.	D.	E.
1	2	3	4	NE ŽELIMO ODGOVORITI NA PITANJE

1.14. KOLIKO EURA KOŠTAJU DVIJE LIZALICE?



A.	B.	C.	D.	E.
5 €	8 €	4 €	10 €	NE ŽELIMO ODGOVORITI NA PITANJE

1.15. TIA SE NIJE MOGLA ODLUČITI KOJU ĆE HALJINU OBUĆI: ZELENU, RUŽIČASTU ILI ŽUTU. PRITOM JE TREBALA ODABRATI I TENISICE: RUŽIČASTE ILI ZELENE. KOLIKO RAZLIČITIH KOMBINACIJA TIA MOŽE SLOŽITI?



A.	B.	C.	D.	E.
5	7	4	6	NE ŽELIMO ODGOVORITI NA PITANJE